

اگر دانشگاه اصلاح شود مملکت اصلاح می‌شود.
امام خمینی (ره)

عصر پنج‌شنبه
۸۶/۱۲/۲

جمهوری اسلامی ایران
وزارت علوم، تحقیقات و فناوری
سازمان سنجش آموزش کشور

گروه آموزشی مهندسی
تدریس خصوصی دروس
کنکور ارشد - کنکور کاردانی به کارشناسی
۰۴-۳۵۷۱۲-۱۱۲
www.pasokh.org

آزمون ورودی دوره‌های کارشناسی ارشد ناپیوسته داخل سال ۱۳۸۷

مهندسی فرآوری و انتقال گاز
(کد ۱۲۸۹)

گروه آموزشی مهندس فضلی
تدریس خصوصی دروس دانشگاهی
ارشد - کنکور کاردانی به کارشناسی
۰۴-۳۵۷۱۲-۰۹۱۲
www.pasokh.org

تهران: خیابان...
کتابخانه تخصصی مهندسی
گروه آموزشی مهندسی
کنکور ارشد - کنکور کاردانی به کارشناسی
۰۴-۳۵۷۱۲-۱۱۲
www.pasokh.org

نام و نام خانوادگی داوطلب:

شماره داوطلبی:

تعداد سؤال: ۱۴۰

مدت پاسخگویی: ۱۸۰ دقیقه

عنوان مواد امتحانی، تعداد و شماره سؤالات

ردیف	مواد امتحانی	تعداد سؤال	از شماره	تا شماره
۱	زبان عمومی و تخصصی	۳۰	۱	۳۰
۲	ریاضیات	۱۵	۳۱	۴۵
۳	ترمودینامیک مهندسی شیمی ۱ و ۲	۲۰	۴۶	۶۵
۴	انتقال حرارت ۱ و ۲	۲۰	۶۶	۸۵
۵	انتقال جرم	۱۵	۸۶	۱۰۰
۶	عملیات واحد ۱ و ۲	۲۰	۱۰۱	۱۲۰
۷	مکانیک سیالات	۲۰	۱۲۱	۱۴۰

اسفند ماه سال ۱۳۸۶

استفاده از ماشین حساب مجاز نمی‌باشد

قیمت ۵۰۰ تومان

PART A: Vocabulary

Directions: Choose the word or phrase (1), (2), (3), or (4) that best completes each sentence. Then mark the correct choice on your answer sheet.

- 1- The book was ----- by a panel of experts, working in conjunction with the publisher.
1) revealed 2) compiled 3) intervened 4) attributed
- 2- In Canada, drug users belong to high-risk insurance -----.
1) entities 2) features 3) categories 4) structures
- 3- The victim was able to give the police an ----- description of her attacker.
1) accurate 2) ultimate 3) identical 4) equivalent
- 4- The government passed a law to promote the ----- of blacks into white South African society.
1) integration 2) foundation 3) coordination 4) adaptation
- 5- Small businesses often have great difficulty in ----- credit from banks.
1) detecting 2) obtaining 3) pursuing 4) depositing
- 6- Feminists say that the book was written from a male -----.
1) objective 2) inspection 3) perspective 4) presumption
- 7- Violence is just one of the many problems ----- in city life.
1) explicit 2) empirical 3) available 4) inherent
- 8- Legal requirements state that working hours must not ----- 42 hours a week.
1) assign 2) exceed 3) utilize 4) undertake
- 9- The Highways Department is responsible for the construction and ----- of bridges and roads.
1) equipment 2) adjustment 3) manipulation 4) maintenance
- 10- Maxwell's responsibilities ----- yours, so you will be sharing some of the work.
1) overlap 2) affect 3) identify 4) coincide

PART B: Grammar

Directions: Read the following passage and decide which choice (1), (2), (3), or (4) best fits each space. Then mark the correct choice on your answer sheet.

Since water is the basis of life, (11) ----- the greater part of the tissues of all living things, the crucial problem of desert animals is to survive in a world (12) ----- sources of flowing water are rare. And since man's inexorable necessity (13) ----- large quantities of water at frequent intervals, (14) ----- comprehend that many creatures of the desert pass their entire lives (15) ----- a single drop.

- 11- 1) composes 2) composing 3) it composes 4) that composing
- 12- 1) which 2) that 3) there 4) where
- 13- 1) is to absorb 2) of absorbing 3) that is to absorb 4) is absorbing
- 14- 1) scarcely he can 2) he scarce can 3) he can scarcely 4) scarce can he
- 15- 1) for 2) from 3) upon 4) without

گروه آموزشی مهندسی فضایی
تدریس خصوصی دروس دانشگاهی
کنکور ارشد - کنکور کارشناسی به کارشناسی
۰۹۱۲-۳۸۷۱۲۰۴

- 23- From the text, it can be understood that the use of injection of water and/or gas is -----.
- 1) to avoid the pressure decline 2) to break through into the wells
3) to sustain the gas/liquid ratios 4) to maintain the decline pressure
- 24- What will wellhead pressure and change in liquid-gas ratios result in?
- 1) the accommodation of the surface system
2) major modifications in the current conditions
3) an increase in cost of inefficient production practices
4) a change in the needs of the production/processing system
- 25- The underlined word compromise here means:
- 1) endanger 2) increase 3) inflate 4) decrease

PASSAGE 2:

WATER MONITORS

Measurement of the water content of gas is a normal part of the gas conditioning process. There are many instruments on the market for this purpose, in a wide price range. The choice is not routine. Some are difficult, or certainly inconvenient, to calibrate. Some will not stand hard physical treatment. Others are not suitable for hazardous atmospheres.


The grandfather of this family of instruments is what is often called the Bureau of Mines Dewpoint Tester. It consists of a polished mirror that can be cooled at a steady rate. When the first drops of liquid "dew" appear visually on this mirror the technician records the temperature and pressure. It is simple and rugged. But, it depends on the visual judgment of the technician. Different people get different results.

One problem is the fact that hydrocarbons often condense at a higher temperature than water and flood the mirror. That little opaque spot may be hard to detect. One solution for this is to place an activated carbon chamber in the test line ahead of the tester. Carbon has little affinity for water. Once it has been saturated the gas leaving will be representative of the gas being tested. At best though this type of tester is not a completely satisfactory instrument when used as a guide in custody transfer operations.

There is also a visual type based on expanding gas across a valve to produce a fog. One finds the vanishing point of the fog to determine the dewpoint. It is a low pressure instrument requiring gas expansion.

A more sophisticated form of the mirror concept uses a gold plated mirror bonded to a copper thermocouple holder. As this assembly is cooled an optical sensing bridge detects the change in light level that occurs when dew forms on the mirror.

- 26- The underlined term "some" in paragraph one refers to -----.
- 1) water contents 2) hazardous atmospheres
3) water measuring devices 4) gas conditioning processes
- 27- From the text, it can be understood that one of disadvantages of the instrument mentioned is that it -----.
- 1) is simple 2) is rugged
3) cools at a steady rate 4) depends on human judgment
- 28- The word "rugged" as used in paragraph two is closest in meaning to -----.
- 1) old 2) strong 3) broken 4) complex
- 29- The underlined "this" in paragraph three refers to -----.
- 1) the flood on the mirror 2) the condensation of water
3) the difficulty in detecting the opaque spot 4) the size of the opaque spot
- 30- All the metering devices mentioned are based on condensation of water except -----.
- 1) the visual type 2) the one with gold-plated mirror
3) the one with the carbon chamber 4) the bureau of mines dewpoint tester



۲۱- جواب معادله دیفرانسیل $x dx - y dy + 2x^2 \sqrt{x^2 - y^2} dx = 0$ عبارتست از:

(۱) $\sqrt{x^2 - y^2} + x^2 = c$ (۲) $\frac{2}{3} \sqrt{x^2 - y^2} + x^2 = c$ (۳) $\frac{x}{y} \sqrt{x^2 - y^2} + x^2 = c$ (۴) $2x \sqrt{x^2 - y^2} + x^2 = c$

۲۲- کدام گزینه عامل انتگرال سازی برای معادله دیفرانسیل $\frac{e^{2x}}{e^y} dx + \frac{y+2}{x^2} dy = 0$ است؟

(۱) $F = xe^y$ (۲) $F = x^2 e^y$ (۳) $F = ye^x$ (۴) $F = y^2 e^x$

۲۳- اگر در معادله دیفرانسیل $y'' + by' + cy = Ae^{ax}$ مقدار $b^2 - 4c < 0$ باشد (A, c, b, a پارامترهای حقیقی اند). آنگاه جواب خصوصی معادله به ازای $x = 0$ و بر حسب پارامترهای داده شده برابر است با:

(۱) $\frac{A}{a^2 + b + c}$ (۲) $\frac{A}{a + b + c}$ (۳) $\frac{A}{ab + ac + bc}$ (۴) $\frac{A}{a^2 + ab + c}$

۲۴- کدام تغییر متغیر معادله دیفرانسیلی $2xy'' + 2xy' + (x - v^2)y = 0$ را به معادله بسل تبدیل می کند؟

(۱) $x = \sqrt{t}$ (۲) $x = e^{2t}$ (۳) $x = t^2$ (۴) $x = e^{\frac{t}{2}}$

۲۵- برای کدام یک از توابع داده شده تبدیل لاپلاس تعریف نشده است؟ ($k > 0$ عددی ثابت)

(۱) $f(t) = e^{kt^2}$ (۲) $f(t) = \sinh \sqrt{kt}$ (۳) $f(t) = J_0(\sqrt{kt})$ (۴) $f(t) = J_0(kt)$

۲۶- تبدیل لاپلاس جواب مسئله با مقدار اولیه $y(0) = 1, y'(0) = 1$ ، $ty'' + (1-t)y' + y = 0$ عبارتست از:

(۱) $Y(s) = \frac{2s}{s^2 + 1}$ (۲) $Y(s) = \frac{s-1}{s^2}$ (۳) $Y(s) = \frac{s(s-1)}{s+2}$ (۴) $Y(s) = \frac{1}{s^2 - 1}$

۲۷- اگر $F(s) = \frac{s^2(s+1)^2}{s^2 + 1}$ تبدیل لاپلاس تابع $f(t)$ باشد، تبدیل معکوس تابع $\ln(F(s))$ عبارتست از:

(۱) $\int \left(\cos t - te^{-t} - \frac{1}{t} \right)$ (۲) $\int t(\cos t - e^{-t} - 1)$ (۳) $\int \left(\cos t - e^{-t} - \frac{1}{t} \right)$ (۴) $\int \frac{1}{t} (\cos t - e^{-t} - 1)$

۲۸- رتبه (rank) ماتریس A^T عبارتست از:

(۱) ۲ (۲) ۳ (۳) ۴ (۴) ۷

$$A = \begin{bmatrix} 1 & 2 & 1 & 0 & 2 & 0 & -5 & 0 \\ 0 & 3 & 4 & 0 & 4 & 1 & 5 & 0 \\ 0 & 5 & 5 & 1 & 3 & 0 & 2 & 0 \\ 0 & -1 & -1 & 0 & 7 & 0 & 4 & 1 \end{bmatrix}$$

۲۹- مقادیر ویژه ماتریس داده شده کدامند؟

(۱) ۱, -۱, -۵, ۳ (۲) ۱, -۵, -۲ (۳) -۱, -۵, ۳ (۴) ۱, -۱, ۵, -۳

$$\begin{bmatrix} -1 & 0 & 12 & 0 \\ 0 & -1 & 0 & 12 \\ 0 & 0 & -1 & -4 \\ 0 & 0 & -4 & -1 \end{bmatrix}$$

۴۰- تقریب درجه دوم (از بسط تیلور) تابع $F(x, y) = e^x \sin y$ حول نقطه $(0, 0)$ کدام است؟

(۱) $1 + xy + x^2 + y^2$ (۲) $y + xy$ (۳) $x + xy$ (۴) $\left(1 + x + \frac{x^2}{2} \right) + y$

۴۱- شار (Flux) میدان برداری $F(x, y, z) = x\bar{i} + y\bar{j} + z\bar{k}$ گذرنده از یک هشتم کره $x^2 + y^2 + z^2 = a^2$ واقع در یک هشتم اول عبارت است از:

(۱) $\frac{\pi a^2}{2}$ (۲) πa^2 (۳) $4\pi a^2$ (۴) $\frac{\pi a^2}{8}$

گروه آموزشی مهندس فضلی
 تدریس خصوصی دروس دانشگاهی
 کنکور ارشد - کنکور کاردانی به کارشناسی
 ۰۹۱۲-۳۵۷۱۲۰۴
 www.pasokh.org

۴۲- مقدار $f''(0/3)$ برای تابع جدولی زیر و با استفاده از روش تفاضل مرکزی عبارتست از:

x_i	0/1	0/2	0/3	0/4	0/5	0/18 (۲)	0/36 (۱)
f_i	0/201	0/408	0/627	0/864	1/125	1/8 (۴)	3/6 (۳)

۴۳- با استفاده از روش اولر با طول گام $h = 0/2$ برای حل مسئله با مقدار اولیه $y(0) = 2$ و $y' = -xy^2$ مقدار y_7 عبارتست از:

$y_7 = 1/84$ (۴)
 $y_7 = 0/84$ (۳)
 $y_7 = 1/16$ (۲)
 $y_7 = 2/16$ (۱)

۴۴- مقدار $f(1/2)$ برای تابع جدولی با استفاده از روش درون‌یابی نیوتن پیشرو عبارتست از:

x_i	1	2	3	4	4/88 (۲)	4/80 (۱)
$f(x_i)$	4	10	20	34	4 (۴)	4/08 (۳)

۴۵- در حل معادله انتقال حرارت $\frac{\partial u}{\partial t} = \frac{\partial^2 u}{\partial x^2}$ با روش تفاضل‌های محدود صریح (Explicit method) رابطه بازگشتی عبارتست از:

$u_{i,n+1} = -u_{i,n} + \frac{\Delta t}{\Delta x^2} (u_{i-1,n} - u_{i+1,n} + 2u_{i,n})$ (۲)
 $u_{i,n+1} = -u_{i,n} + \frac{\Delta t}{\Delta x^2} (u_{i-1,n} - 2u_{i,n} + u_{i+1,n})$ (۱)

$u_{i,n+1} = u_{i,n} + \frac{\Delta t}{\Delta x^2} (u_{i-1,n} - u_{i+1,n} + 2u_{i,n})$ (۴)
 $u_{i,n+1} = u_{i,n} + \frac{\Delta t}{\Delta x^2} (u_{i-1,n} - 2u_{i,n} + u_{i+1,n})$ (۳)

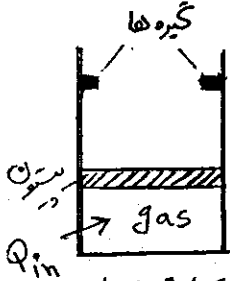
گروه آموزشی مهندس فضلی
 تدریس خصوصی دروس دانشگاهی
 کنکور ارشد - کنکور کاردانی به کارشناسی
 ۰۹۱۲-۳۵۷۱۲۰۴
 www.pasokh.org

گروه آموزشی مهندس فضلی
 تدریس خصوصی دروس دانشگاهی
 کنکور ارشد - کنکور کاردانی به کارشناسی
 ۰۹۱۲-۳۵۷۱۲۰۴
 www.pasokh.org

- ۴۶- در لوله‌ای که کاملاً عایق شده است آب جریان دارد. چنانچه در این لوله افت فشار حاصل شود، کاهش فشار باعث می‌شود.
 (۱) کاهش آنتالپی آب (۲) افزایش دمای آب (۳) افزایش آنتالپی آب (۴) افزایش سرعت آب
- ۴۷- کدام یک از عبارات زیر در مورد فرآیند انبساط ایزوترمال برگشت پذیر (Isothermal-Reversible) توسط یک سیستم بسته درست است؟

- (۱) انتروپی سیستم کاهش می‌یابد (۲) انتروپی محیط افزایش می‌یابد.
 (۳) انتقال انرژی بصورت گرما از محیط به سیستم است. (۴) انتقال انرژی بصورت کار از محیط به سیستم است.
- ۴۸- مطابق شکل مقابل یک کیلوگرم گاز در سیلندر دارای پیستون متحرک با حجم 0.15 m^3 و فشار 1000 KPa موجود است. گاز را

گرم می‌کنیم تا اینکه پیستون در تماس با گیره‌ها قرار گیرد. در این حالت حجم گاز 0.2 m^3 است. گرم کردن گاز را ادامه می‌دهیم تا اینکه فشار آن در سیلندر به 1200 KPa می‌رسد. کار کل انجام یافته توسط گاز بر حسب KJ برابر خواهد بود با:



گروه آموزشی مهندسی فضلی
 تدریس خصوصی دروس دانشگاهی
 کنکور ارشد - کنکور کاردانی به کارشناسی
 ۰۹۱۲-۳۵۷۱۲۰۴
 www.pasokh.org

- ۶۰ (۱)
 ۵۰ (۲)
 ۵۵ (۳)
 ۴۵ (۴)

- ۴۹- در یک سیستم بسته، گازی طی فرآیند ایزوترمال از شرایط اولیه تحت فشار p_1 تا فشار p_2 متراکم می‌شود. کدام یک از گزینه‌های زیر در این مورد صحیح است؟

- (۱) تغییر انرژی درونی گازی صفر است. (۲) انتروپی گاز کاهش می‌یابد.
 (۳) انتروپی گاز ثابت می‌ماند. (۴) انرژی داخلی افزایش می‌یابد.

- ۵۰- در دمای 27°C و فشار کل 60 KPa ، بخاری شامل 40% اتانول و 60% بنزن در تعادل با فاز مایع محتوی 70% بنزن و 30% اتانول می‌باشد. فشار بخار اتانول و بنزن در شرایط 20°C و 30°C کیلو پاسکال می‌باشد. ضریب اکتیویته اتانول و بنزن عبارتند از ؟ (فاز بخار ایده آل فرض شود).

- (۱) 2 و 1.68 (۲) 3 و 1.71 (۳) 3 و 2.8 (۴) 4 و 1.71

- ۵۱- یک مخلوط گازی متشکل از 60% (مولی) متان (CH_4) و 40% اتان (C_2H_6) توسط کمپرسور بطور ایزوترمیک (Isentropically) از دمای 40°C و فشار 400 KPa تا شرایط 100°C ، 1200 KPa متراکم می‌گردد. گرمای ویژه در فشار ثابت

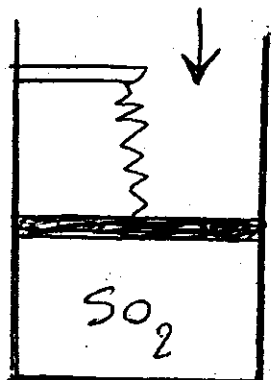
متان و اتان به ترتیب $0.22 \text{ KJ/Kg} \cdot \text{K}$ و $1.7 \text{ KJ/Kg} \cdot \text{K}$ می‌باشند. حداقل کار مورد نیاز بر حسب $\frac{\text{KJ}}{\text{Kg}}$ چقدر است؟

- ۶۰ (۱)
 ۱۲۰ (۲)
 ۱۳۲ (۳)
 ۱۹۵ (۴)

- ۵۲- مطابق شکل مقابل 1.5 kg گاز SO_2 ($R = 0.13 \text{ KJ/Kg} \cdot \text{K}$) در دمای 300 K در سیلندر موجود است. نیروی وارده توسط فنر بر روی پیستون 60 N بوده و جرم و سطح مقطع پیستون به ترتیب 2 kg و 20 cm^2 می‌باشند. چنانچه فشار محیط 97 kPa و شتاب ثقل محل

$\frac{m}{9.81}$ باشند حجم گاز داخل سیلندر بر حسب m^3 چقدر است؟

$P_{\text{atm}} = 97 \text{ kPa}$



گروه آموزشی مهندسی فضلی
 تدریس خصوصی دروس دانشگاهی
 کنکور ارشد - کنکور کاردانی به کارشناسی
 ۰۹۱۲-۳۵۷۱۲۰۴
 www.pasokh.org

- $\frac{\text{m}}{\text{sec}^2}$
 ۰.۱۵ (۱)
 ۰.۳۰ (۲)
 ۰.۴۵ (۳)
 ۰.۶۰ (۴)

۵۳- آب خالص با دبی $3 \frac{kg}{sec}$ آنتالپی $400 \frac{kJ}{kg}$ با جریان دیگری از آب خالص که دبی آن $1 \frac{kg}{s}$ و آنتالپی آن $1600 \frac{kJ}{kg}$ است به طور

یکنواخت در مخزنی مخلوط می شود در صورتی که آنتالپی خروجی $2500 \frac{kJ}{kg}$ باشد نرخ انتقال حرارت با این مخزن در واحد کیلووات چقدر است؟

- (۱) ۷۲۰۰ (۲) ۶۸۰۰ (۳) ۵۲۰۰ (۴) ۴۷۰۰

۵۴- رفتار PVT گازی از معامله حالت وانداوالس پیروی می کند. $P = \frac{RT}{V-b} - \frac{a}{V^2}$ این گاز در طی فرآیند هم دما از حجم اولیه V_1 به حجم V_2 انبساط می یابد تغییر انتروپی این گاز در طی این فرآیند برابر است با

(۱) $\Delta s = R \ln \frac{V_2}{V_1}$ (۲) $\Delta s = RT \ln \frac{V_2}{V_1}$ (۳) $\Delta s = R \ln \frac{V_2 - b}{V_1 - b}$ (۴) $\Delta s = RT \ln \frac{V_2 - b}{V_1 - b}$

۵۵- $2 kg$ گاز ایده آل در یک سیلندر دارای پیستون در دو نوبت جداگانه از حالت اولیه معینی تغییر حالت می دهد: در نوبت اول با جذب گرما تحت فشار ثابت (فرآیند I) و در نوبت دوم با جذب گرما تحت حجم ثابت (فرآیند II). چنانچه دمای اولیه T_1 و دمای نهایی T_2 در هر دو فرآیند یکسان باشند کدامیک از روابط زیر صحیح است؟

(۱) $\Delta U_I > Q_{II}$ (۲) $Q_I > Q_{II}$ (۳) $\Delta H_I < \Delta H_{II}$ (۴) $W_I < W_{II}$

۵۶- توسط کدامیک از عملیات زیر می توان گاز را تبدیل به مایع نمود؟

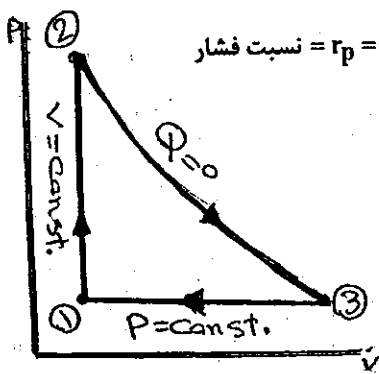
- (۱) کاهش حجم تحت فشار ثابت بالاتر از فشار بحرانی آن
(۲) تراکم گاز تحت دمای ثابت بالاتر از دمای بحرانی آن
(۳) انبساط گاز همزمان با کاهش دمای آن تحت انتروپی ثابت
(۴) کاهش دمای گاز هم زمان با پایین آوردن فشار آن تحت انتالپی ثابت

۵۷- یک مخزن صلب سربسته با حجم $24 m^3$ حاوی گاز هیدروژن در $300 K$ و $103 Kpa$ می باشد. پره نصب شده در داخل سیلندر بوسیله موتور می چرخد و $18 KJ$ کار به گاز انتقال می دهد. در طول همین مدت $10 KJ$ گرما به محیط انتقال یافته و هدر می رود. برای

گاز هیدروژن $R = 4/12 \frac{KJ}{Kg \cdot K}$ و $C_v = 2/4 \frac{KJ}{Kg \cdot K}$ می باشند. دمای نهایی گاز داخل مخزن بر حسب K برابر خواهد بود با:

- (۱) ۴۶۶/۶ (۲) ۴۰۳/۳ (۳) ۳۶۶/۶ (۴) ۳۰۳/۳

۵۸- یک مول (mole) گاز ایده آل (Ideal Gas) یک چرخه ترمودینامیکی مرکب از سه فرآیند برگشت پذیر متوالی را مطابق شکل مقابل انجام می دهد. کدامیک از روابط زیر بازدهی حرارتی (Thermal Efficiency) چرخه را به دست می دهد؟



نسبت فشار $r_p = \frac{P_2}{P}$

نسبت تراکم $r_c = \frac{V_2}{V_1}$

$k = \frac{C_p}{C_v}$

(۱) $\eta_{th} = 1 - \frac{r_p^{-1}}{r_c^{-1}}$

(۲) $\eta_{th} = 1 - \frac{kr_p}{r_c^{-1}}$

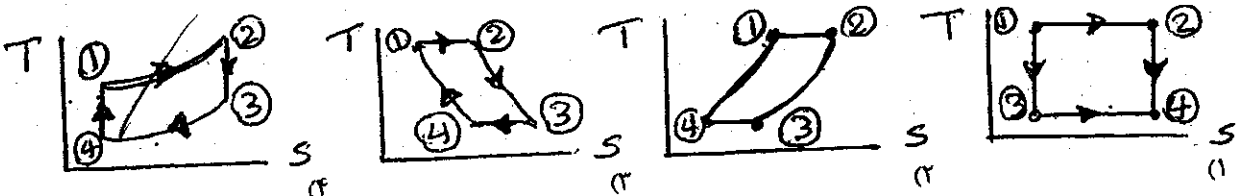
(۳) $\eta_{th} = 1 - k \frac{r_c^{-1}}{r_p^{-1}}$

(۴) $\eta_{th} = 1 - \frac{kr_p}{r_c(k-1)}$

۵۹- با یک کیلوگرم گاز ایده آل چرخه ترمودینامیکی (Cycle) برگشت پذیر مرکب از فرآیندهای متوالی زیر انجام می گیرد:

- فرآیند (۱-۲): انتقال گرما به گاز تحت دمای ثابت
فرآیند (۲-۳): کاهش فشار گاز تحت حجم ثابت
فرآیند (۳-۴): دفع گرما از گاز تحت دمای ثابت
فرآیند (۴-۱): افزایش فشار گاز تحت حجم ثابت

کدامیک از نمودارهای زیر چرخه فوق را درست نمایش می دهد؟



۶۰- یک موتور کارنو (Carnot Engine) از یک منبع گرم بادمای 900K گرما به مقدار 75KJ دریافت نموده و گرما به هوای محیط (منبع سرد) بادمای 300K دفع می‌کند. کار تولیدی این موتور به یک مبرد کارنو (Carnot Refrigerator) داده می‌شود تا اینکه دما فضایی را همواره در مقدار پایین تری حفظ و ثابت نگه دارد. ضریب پیشرفت COP مبرد چقدر باید باشد تا اینکه 250KJ گرما از فضای سرد استخراج نموده و به هوای محیط تخلیه کند؟

(۱) $2/5$ (۲) $3/2$ (۳) $3/25$ (۴) 5

۶۱- مقداری گاز ایده‌آل در یک پیستون - سیلندر بطور ایزوترمال (Isothermally) ولی برگشت ناپذیر (Irreversibly) متراکم می‌شود تا اینکه فشار نهایی گاز به دو برابر فشار اولیه آن می‌رسد. مقدار کار مصرف شده و تولید انتروپی کل این فرآیند به ترتیب

$3/6\text{KJ}$ و $0/007\frac{\text{KJ}}{\text{K}}$ می‌باشند. تغییر انتروپی گاز طی فرآیند فوق چقدر خواهد بود؟ (دمای محیط 27°C است.)

(۱) $-6 \times 10^{-3}\text{KJ}$ (۲) $-5 \times 10^{-3}\frac{\text{KJ}}{\text{K}}$ (۳) $-3 \times 10^{-3}\frac{\text{KJ}}{\text{K}}$ (۴) $8 \times 10^{-3}\frac{\text{KJ}}{\text{K}}$

۶۲- آب مایع اشباع در پیستونی در دمای 10°C قرار دارد. چنانچه در دمای ثابت فشار روی پیستون را زیاد کنیم در اینصورت کدام یک از گزینه‌های زیر درست است؟

(۱) انتروپی مایع اشباع در دمای 10°C از انتروپی مایع متراکم بیشتر است.

(۲) انتروپی مایع اشباع در دمای 10°C با انتروپی مایع متراکم برابر است.

(۳) انتروپی مایع اشباع در دمای 10°C از انتروپی مایع متراکم کمتر است.

(۴) بستگی به فشار اعمال شده در دمای 10°C انتروپی مایع متراکم می‌تواند بیشتر و یا کمتر از انتروپی مایع اشباع باشد.

۶۳- بخار آب تحت شرایط 1Mpa و 600°C وارد توربین آدیاباتیکی شده و تحت شرایط 60Kpa و 150°C از آن خارج می‌گردد.

بازدهی توربین 80% است. پائین‌ترین دمایی که تحت آن بخار می‌تواند از توربین خارج شود چقدر خواهد بود؟

(۱) $62/5^\circ\text{C}$ (۲) $58/5^\circ\text{C}$ (۳) 45°C (۴) $27/5^\circ\text{C}$

۶۴- کدامیک از روابط زیر بین بازدهی موتور حرارتی کارنو $\eta_{th,c}$ (Carnot Heat Engine) بین دودمای T_H و T_L و ضریب پیشرفت

تبرید $(COP)_{R,C}$ بین همان دو دما (Carnot Refrigerator) صحیح است؟

(۱) $\frac{\eta_{th,c}}{(COP)_{R,C}} = \frac{T_H}{T_L}$

(۲) $\eta_{th,c} (COP)_{R,C} = \frac{T_L}{T_H}$

(۳) $\eta_{th,c} = (T_H \cdot T_L)^{\eta_{th,c}}$

(۴) $\eta_{th,c} = (COP)_{R,C} + (T_H \cdot T_L)^{\eta_{th,c}}$

۶۵- حجم ویژه یک گاز به عنوان تابعی از فشار و دما بصورت $V = \frac{RT}{P} + b - \frac{a}{T}$ داده شده است که در آن a و b مقادیر ثابت می‌باشند.

فوگاستیه (Fugacity) این گاز از کدامیک از روابط زیر بدست می‌آید؟

(۱) $\ln\left(\frac{f}{P}\right) = RT\left(a + \frac{b}{T}\right)P$

(۲) $\ln\left(\frac{f}{P}\right) = \frac{1}{RT}\left(b - \frac{a}{T}\right)P$

(۳) $\ln\left(\frac{f}{P}\right) = \left(b + \frac{a}{T}\right)P$

(۴) $\ln\left(\frac{f}{P}\right) = \frac{1}{RT}\left(a - \frac{b}{T}\right)P^2$



۶۶- ضریب نفوذ گرمایی نمایگر.....

- (۱) ذخیره سازی انرژی گرمایی است.
 (۲) نسبت هدایت انرژی گرمایی به ذخیره انرژی گرمایی است.
 (۳) انتقال انرژی به طریق هدایتی است.
 (۴) نسبت ذخیره انرژی گرمایی به هدایت انرژی گرمایی است.

۶۷- مخروط ناقصی را در نظر بگیرید که اطراف مخروط ایزوله شده است و قطر آن به صورت خطی با طول مخروط افزایش می یابد. اگر جریان برقی از این مخروط عبور داده شود بنحوی که چشمه حرارتی ثابتی در مخروط ایجاد شود. در مورد نرخ انتقال حرارت Q_x و گرادیان دما dT/dx در حالت پایا کدامیک از گزینه ها صحیح است؟ منظور از افزایش طول جهت سطح کوچکتر به سطح بزرگتر است.

- (۱) با افزایش طول، نرخ انتقال حرارت Q_x و گرادیان دما ثابت می ماند.
 (۲) با افزایش طول، نرخ انتقال حرارت Q_x و گرادیان دما کاهش می یابد.
 (۳) با افزایش طول، نرخ انتقال حرارت Q_x و گرادیان دما افزایش می یابد.
 (۴) با افزایش طول نرخ انتقال حرارت Q_x ثابت ولی گرادیان افزایش می یابد.

۶۸- از یک سیم به قطر ۱cm جریان برقی عبور می نماید و حرارتی معادل $\frac{W}{m^3} \times 10^5 \times 5$ در آن ایجاد می شود حرارت از سطح سیم به صورت

جابجایی انتقال می یابد، ضریب جابجایی $\frac{W}{m^2 \cdot C}$ ۲۵ و دمای محیط $20^\circ C$ است دمای سطح سیم چقدر است؟

- (۱) $65^\circ C$ (۲) $70^\circ C$ (۳) $80^\circ C$ (۴) $120^\circ C$

۶۹- در چه حالتی راندمان در پره ها بیشتر خواهد شد؟

- (۱) در صورتی که پره هایی با مقاومت هدایتی کم و محیطی که ضریب جابجایی آن کم باشد بکار گرفته شود.
 (۲) در صورتیکه پره هایی با مقاومت هدایتی بالا و در محیطی که ضریب جابجایی آن کم باشد بکار گرفته شود.
 (۳) در صورتی که پره هایی با مقاومت هدایتی کم و در محیطی که ضریب جابجایی آن بالا باشد بکار گرفته شود.
 (۴) در صورتی که پره هایی با مقاومت هدایتی بالا و در محیطی که ضریب جابجایی آن بالا باشد بکار گرفته شود.

۷۰- عدد $C_p \frac{\mu}{k}$ معروف است به :

- (۱) Nusselt number (۲) Stanton number (۳) Prandtl number (۴) Mach number

۷۱- در لوله ای زانو شکل گاز داغی با دمای $t_i = 35^\circ C$ جریان دارد ترموکوپلی را در مسیر گاز قرار می دهیم اگر دمای قرائت شده توسط ترموکوپل t_1 و دمای بدنه زانو t_2 باشد و بدنه زانو عایق نشده باشد در اینصورت.....

- (۱) $t_2 < t_1 < t_i$ (۲) $t_1 < t_2 < t_i$ (۳) $t_1 < t_i < t_2$ (۴) $t_2 < t_i < t_1$

۷۲- کدامیک از شرایط زیر در ارتباط با کارآئی فینها صحیح است؟


- (۱) قرار دادن فین در شرایطی مناسب است که دمای لوله کم و ضریب هدایت حرارتی آن کم باشد.
 (۲) قرار دادن فین در شرایطی مناسب است که دمای لوله زیاد و ضریب هدایت حرارتی آن بالا باشد.
 (۳) در صورتیکه در اطراف لوله تغییر فاز اتفاق بیفتد و یا سیالی با سرعت بالا حرکت داشته باشد قرار دادن فین کمک قابل ملاحظه ای به انتقال حرارت می کند.
 (۴) در صورتیکه در اطراف لوله تغییر فاز اتفاق بیفتد و یا سیالی با سرعت بالا حرکت داشته باشد قرار دادن فین کمک قابل ملاحظه ای به انتقال حرارت نمی کند.

۷۳- سیالی با سرعت u_∞ و دمای T_∞ از روی سطحی به دمای ثابت T_w عبور می کند. در ناحیه جریان آرام ضریب انتقال حرارت موضعی با افزایش طول صفحه

- (۱) کاهش می یابد.
 (۲) ثابت باقی می ماند.
 (۳) افزایش می یابد.
 (۴) بستگی به عدد Pr ممکن است افزایش یابد یا کم شود.
 ۷۴- شار انتقال حرارت در یک لایه با دو برابر کردن ضخامت لایه در صورتیکه گرادیان درجه حرارت تغییر نکند چگونه می شود؟
 (۱) ۲ برابر می شود.
 (۲) تغییر نمی کند.
 (۳) نصف می شود.
 (۴) بستگی به مقدار مقاومت حرارتی لایه دارد.

۷۵- تحت کدامیک از شرایط زیر در جریان از روی یک صفحه مسطح لایه مرزی گرمایی ضخیم تر از لایه مرزی سرعتی می باشد؟

- (۱) $Re \geq 5 \times 10^5$ (۲) $1 \leq Pr \leq 10$ (۳) $Pr \ll 1$ (۴) $Pr \rightarrow \infty$



۷۶- دو گلوله مسی داغ یکی بصورت مکعب شکل به اضلاع ۲cm و دیگری به شکل کروی به قطر ۲cm در یک مخزن حاوی سیال سردی رها می‌شوند در اینصورت:

- (۱) گلوله کروی شکل زودتر سرد می‌شود.
- (۲) گلوله مکعبی شکل زودتر سرد می‌شود.
- (۳) بستگی به نوع سیال ممکن است گلوله کروی زودتر سرد شود.
- (۴) هر دو همزمان سرد می‌شوند و درجه حرارتشان یکسان باقی می‌ماند.

۷۷- برای سیالی که عدد پرانتل آن کمتر از یک می‌باشد ($Pr < 1$) طول لازم برای گسترش یافتن سیال از نظر حرارتی در داخل لوله (x_f) نسبت به طول لازم برای گسترش یافتن سیال از نظر هیدرودینامیکی (x_h)

- (۱) بزرگتر از یک می‌باشد.
- (۲) برابر یک می‌باشد.
- (۳) کوچکتر از یک می‌باشد.
- (۴) بستگی به قطر لوله و مقدار عدد رینولدز دارد و ممکن است برابر یک باشد.

۷۸- در جریان آرام و توسعه یافته در داخل لوله در صورتی که دمای دیواره ثابت و عدد پکلت بزرگ باشد ($Pe > 100$) و x محور حرکت سیال در نظر گرفته شود از کدامیک از روابط ذیل می‌توان صرفنظر نمود؟

$$\frac{dT}{dx} \quad (1) \quad \frac{d^2T}{dx^2} \quad (2) \quad \frac{dT}{dr} \quad (3) \quad \frac{d^2T}{dr^2} \quad (4)$$

۷۹- برای حالت پایا و سیال تراکم ناپذیر و جریان آرام درون لوله (لوله طویل فرض می‌شود) در کدامیک از حالت‌های ذیل ضریب جابجایی موضعی بزرگتر است؟

- (۱) وقتی که دمای دیواره لوله ثابت نگه داشته شود.
- (۲) وقتی که شار حرارتی ثابتی به دیواره لوله اعمال گردد.
- (۳) وقتی که هم دمای دیواره لوله و هم فشار سیال ثابت نگه داشته شوند.
- (۴) وقتی که دمای دیواره لوله، فشار و سرعت سیال ثابت نگه داشته شوند.

۸۰- در حالت جریان آرام بر روی صفحه تخت چنانچه سرعت سیال را افزایش دهیم چه تأثیری بر روی ضخامت لایه مرزی هیدرو دینامیکی و لایه مرزی حرارتی در یک فاصله مشخص از لبه صفحه خواهد داشت؟

- (۱) هر دو کاهش می‌یابند.
- (۲) ضخامت لایه مرزی هیدرو دینامیکی افزایش ولی ضخامت لایه مرزی حرارتی کاهش می‌یابد.
- (۳) هر دو افزایش می‌یابند.
- (۴) ضخامت لایه مرزی حرارتی افزایش ولی ضخامت لایه مرزی هیدرو دینامیکی کاهش می‌یابد.

- ۸۱- ضریب جابجایی آزاد برای هوای یک اتمسفر داخل یک سفینه فضائی مورد بررسی قرار گیرد.
- (۱) ضریب جابجایی تابع موقعیت سفینه نیست.
 - (۲) ضریب جابجایی آزاد در سفینه روی کره ماه بیشتر از سفینه روی زمین می‌باشد.
 - (۳) ضریب جابجایی آزاد در سفینه در فضا از ضریب جابجایی سفینه روی کره ماه بیشتر می‌باشد.
 - (۴) ضریب جابجایی آزاد روی زمین بیشتر از ضریب جابجایی آزاد در موقعی است که سفینه روی کره ماه می‌باشد.

۸۲- در تماس دو جسم جامد به یکدیگر مقاومت تماس به کدام یک از موارد بستگی دارد؟

- (۱) جنس دو سطح
- (۲) صافی و زبری سطوح تماس
- (۳) گاز پرکننده خلل و فرج سطح تماس
- (۴) هر سه مورد

۸۳- در مورد ضریب نشر سطوح کدام عبارت غلط است؟

- (۱) ضریب نشر سطوح فلزی بسیار صیقلی، بسیار کوچک است.
- (۲) ضریب نشر همه سطوح فلزی با افزایش دما زیاد می‌شود.
- (۳) ضریب نشر سطوح غیرفلزی به مراتب بزرگتر از سطوح فلزی است.
- (۴) تشکیل لایه اکسید بر روی سطوح فلزی موجب زبری و کاهش قابل ملاحظه ضریب نشر می‌شود.

۸۴- بیرون لوله‌ای استوانه‌ای شکل را با عایقی با ضریب هدایت حرارتی $k = 0.5 \frac{W}{m \cdot K}$ و ضریب انتقال حرارت جابجایی $h = 10 \frac{W}{m^2 \cdot K}$

عایق‌بندی می‌نمائیم. اگر شعاع خارجی لوله ۲cm باشد، ضخامت عایق باید چقدر باشد تا حداکثر حرارت از لوله انتقال یابد؟

- (۱) کمتر از ۲cm
- (۲) برابر ۵cm
- (۳) برابر ۲cm
- (۴) بیشتر از ۵cm

۸۵- در کدامیک از مکانیسم‌های انتقال حرارت، شار انتقال حرارت به شیب دما بستگی دارد؟

- (۱) هدایت و جابجایی
- (۲) هدایت و تابشی
- (۳) هدایت، تابشی و جابجایی
- (۴) جابجایی و تابشی

گروه آموزشی مهندس فضلی
 تدریس خصوصی دروس دانشگاهی
 آنتکور ارشد - کنکور کارشناسی به کارشناسی
 ۰۹۱۲-۳۵۷۱۲۰۴
 www.pasokh.org

۸۶- در مقطعی از یک برج جذب اطلاعات زیر از طریق اندازه‌گیری آزمایشی به دست آمده است:

غلظت ماده‌ی A در توده‌ی گاز	$y_{AG} = 0/10$	mole fraction
غلظت ماده‌ی A در سطح تماس گاز و مایع و درون گاز	$y_{Ai} = 0/01$	جزء مولی
غلظت ماده‌ی A در سطح تماس گاز و مایع و درون مایع	$x_{Ai} = 0/05$	جزء مولی
غلظت ماده‌ی A در توده مایع	$x_{AL} = 0/005$	جزء مولی

با این اطلاعات مقاومت فاز مایع در مقابل انتقال جرم چند درصد مقاومت کل سیستم است؟

(۱) ۹/۱ درصد مقاومت در فاز مایع و بقیه مقاومت در فاز گاز قرار دارد.

(۲) ۳۳ درصد مقاومت در فاز گاز و ۶۷ درصد مقاومت در فاز مایع قرار دارد.

(۳) ۹/۱ درصد مقاومت در فاز گاز و بقیه‌ی مقاومت در فاز مایع قرار دارد.

(۴) ۶۷ درصد مقاومت در فاز مایع و ۳۳ درصد مقاومت در فاز گاز قرار دارد.

۸۷- اگر عدد استانتون برای انتقال جرم به صورت زیر تعریف شده باشد:

$$St_D = \frac{(Sh)}{(Re)(Sc)}$$

آنگاه تعریف آن در سیستم انتقال حرارت به صورت نشان داده شده در کدام گزینه خواهد بود؟

$$St_H = \frac{(Sh)}{(Re)(Pr)} \quad (۴)$$

$$St_H = \frac{(Nu)}{(Re)(Pr)} \quad (۳)$$

$$St_H = \frac{(Sc)}{(Re)(Nu)} \quad (۲)$$

$$St_H = \frac{(Re)}{(Pr)(Sc)} \quad (۱)$$

۸۸- در یک محلول رقیق از ماده‌ی A در حلال B، کدام یک از روابط زیر صادق است؟ اندیس‌های ۱ و ۲ شرایط محلول را در دو دمای متفاوت نشان می‌دهد.

$$\left(\frac{D_{AB}^{\circ} \mu}{T} \right)_1 = \left(\frac{D_{AB}^{\circ} \mu}{T} \right)_2 \quad (۱)$$

$$(D_{AB}^{\circ} \mu)_1 = (D_{AB}^{\circ} \mu)_2 \quad (۲)$$

$$(D_{AB}^{\circ} \mu T)_1 = (D_{AB}^{\circ} \mu T)_2 \quad (۳)$$

$$\left(\frac{D_{AB}^{\circ} T}{\mu} \right)_1 = \left(\frac{D_{AB}^{\circ} T}{\mu} \right)_2 \quad (۴)$$


۸۹- کدام یک از گزینه‌های زیر در مورد فاز گاز صحیح می‌باشد؟

(۱) فقط با افزایش فشار می‌توان ضریب نفوذ مولکولی A در B را افزایش داد.

(۲) ضریب نفوذ مولکولی A در B با تغییرات دما، تغییر نمی‌کند.

(۳) ضریب نفوذ مولکولی A در B با تغییرات فشار، تغییری نمی‌کند.

(۴) افزایش دما و کاهش فشار سبب افزایش ضریب نفوذ مولکولی A در B می‌شود.



۹۰- در مقطعی از یک برج جذب گاز، اگر ضریب انتقال جرم محلی در فاز مایع k_x با ضریب انتقال جرم محلی در فاز گاز k_y مساوی شود. آنگاه در آن محل، فازی که انتقال جرم را کنترل می‌کند عبارتست از:

(۱) فاز مایع اگر $m \ll 1$ باشد.

(۲) فاز گاز اگر $m \gg 1$ باشد.

(۳) فاز مایع اگر ضریب زاویه منحنی تعادل $m \gg 1$ باشد یا فاز گاز وقتی که ضریب زاویه منحنی تعادل $m \ll 1$ باشد.

(۴) هر دو فاز به یک اندازه در کنترل انتقال جرم دخالت دارند و این موضوع بستگی به ضریب زاویه منحنی تعادل ندارد.

۹۱- در یک مخلوط چند جزئی گازی شکل، وقتی که تنها مولکول‌های گاز A در مخلوط نفوذ می‌کند و مولکول‌های اجزاء دیگر مخلوط ساکن هستند، کدام رابطه ضریب نفوذ گاز A در مخلوط را نشان می‌دهد؟ D_{A_i} ضریب نفوذ ماده‌ی A در جزء گازی i و y_i کسر مولی جزء i در مخلوط می‌باشد. n تعداد اجزاء در مخلوط می‌باشد.

$$D_{Am} = \frac{1}{\sum_{i=B}^n \frac{y_i}{D_{A_i}}} \quad (۴) \quad D_{Am} = \sum_{i=B}^n \frac{D_{A_i}}{y_i} \quad (۳) \quad D_{Am} = \frac{1-y_A}{\sum_{i=B}^n \frac{y_i}{D_{A_i}}} \quad (۲) \quad D_{Am} = \sum_{i=B}^n y_i D_{A_i} \quad (۱)$$

۹۲- فاکتور جذب یا Absorption Factor عبارتست از:

(۱) نسبت شیب خط عمل جذب به شیب منحنی تعادل

(۲) نسبت شیب منحنی تعادل به شیب خط عمل جذب

(۳) حاصلضرب شیب منحنی تعادل در شیب خط عمل جذب

(۴) نسبت مقدار جذب واقعی به مقدار جذب ایده‌آل

۹۳- در یک برج جذب سینی‌دار، مزیت بازدهی یک سینی را از روی مقدار جذبی که در فاز مایع در آن سینی صورت گرفته محاسبه نموده‌اند و مقدار آن را برابر ۶۶۱۶ درصد به دست آورده‌اند. در صورتی که فاکتور جذب در این برج برابر ۱/۵ باشد، مزیت بازدهی جذب در فاز گاز برای آن سینی چقدر است؟ منظور از مزیت بازدهی سینی، همان بازدهی مورفری سینی می‌باشد.

(۱) ۶۰ درصد (۲) ۴۴/۴ درصد (۳) ۷۵ درصد (۴) همان ۶۶۱۶ درصد

۹۴- در برج‌های پر شده با اکنه‌های ثابت (Packed Columns)، ارتفاع برج از رابطه‌ی $z = (HTU) * (NTU)$ به دست می‌آید که (NTU) را تعداد واحدهای انتقال جرم و HTU را ارتفاع هر واحد انتقال جرم می‌نامند. در این فرمول NTU، کدام یک از روابط زیر می‌تواند باشد؟

$$NTU = \int_{y_1}^{y_2} \frac{dy}{y-x_i} \quad (۱)$$

(۲) $NTU = \frac{\bar{K}_y a}{G}$ ، شار مولی گاز و $(\bar{K}_y a)$ ضریب متوسط انتقال جرم بر اساس حجم پُرکن‌ها می‌باشد.

$$NTU = \int_{y_1}^{y_2} \frac{dy}{y-y_i} \quad (۳)$$

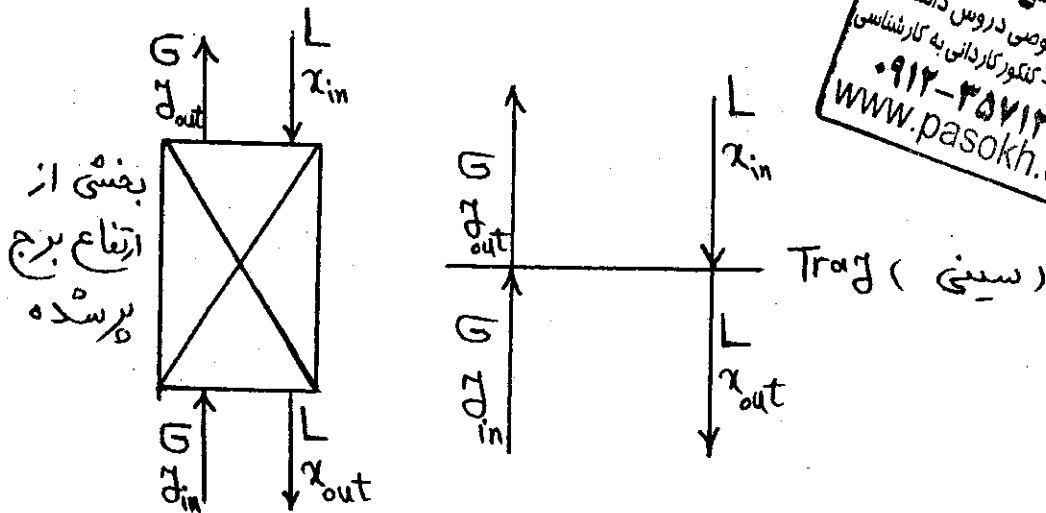
(۴) $NTU = \frac{G}{\bar{K}_y a}$ ، شار مولی گاز و $(\bar{K}_y a)$ ضریب متوسط انتقال جرم بر اساس حجم پُرکن‌ها می‌باشد.

۹۵- کدام یک از فرمول‌های زیر عدد رایلی (Rayleigh) را نشان می‌دهد؟

$$R_a = \left(\frac{d_p^2 \Delta \rho g}{D_L \mu_L} \right) \quad (۴) \quad R_a = \frac{\rho u^2 d_p}{\sigma g_c} \quad (۳) \quad R_a = \frac{\Delta \rho g_c}{\rho u^2} \quad (۲) \quad R_a = \frac{u^2}{Lg} \quad (۱)$$



۹۶- در به کارگیری برج‌های پر شده از آکنه به جای برج‌های سینی‌دار، ارتفاع معادل یک سینی تعادلی (HETP) به ارتفاعی گفته می‌شود که:



گروه آموزشی مهندسی فضایی
تدریس خصوصی دروس دانشگاهی
کنکور ارشد - کنکور کاردانی به کارشناسی
۰۹۱۲-۳۵۷۱۲۰۴
www.pasokh.org

(x و y غلظت جزء مولی A در گاز و مایع می‌باشند.)

- (۱) بتواند تغییری در جزء مولی A در گاز ایجاد کند که برابر با تغییر کل ایجاد شده در جزء مولی گاز در برج تقسیم بر عدد (NTU) برج باشد.
- (۲) بتواند غلظت جزء مولی A را در مایعی که آن ارتفاع از برج را ترک می‌کند با غلظت گازی که در محل وارد برج می‌شود به تعادل برساند.
- (۳) بتواند غلظت جزء مولی A را در گازی که آن ارتفاع از برج را ترک می‌کند با غلظت مایعی که در محل وارد برج می‌شود به تعادل برساند.
- (۴) بتواند غلظت جزء مولی A در گاز و مایع را که آن ارتفاع از برج را ترک می‌کنند به حالت تعادل با هم برساند یعنی x_{out} و y_{out} با هم در حالت تعادل باشند.

- ۹۷- فیلم نازکی از مایعی به چگالی ρ از روی دیواره‌ای صاف و مسطح به پهنای W و طول L ، به آرامی و به طور پیوسته به پایین می‌لغزد و در حالی که ضخامت آن روی دیواره ثابت δ می‌باشد، ماده‌ی A را از گازی که در خلاف جهت آن در حرکت است جذب می‌نماید. اگر پهنای دیواره را دو برابر و ضخامت تیغه یا فیلم مایع را نصف کنیم به طوری که مقدار دبی مایع تغییر نکند، ضریب انتقال جرم متوسط در این فرآیند جذب:
- (۱) ۴۱٪ افزایش می‌یابد.
 - (۲) ثابت می‌ماند و تغییری نمی‌کند.
 - (۳) ۴۱٪ کاهش می‌یابد.
 - (۴) دو برابر می‌شود زیرا سطح تماس گاز با مایع دو برابر می‌شود.

۹۸- هنگامی که مایعی به چگالی $\rho = ۹۹۷ \frac{kg}{m^3}$ ، از لوله‌ای به قطر ۲۵ میلی‌متر با سرعت $۳ \frac{m}{s}$ عبور می‌کند، در هر یک متر از طول لوله، فشارش به اندازه ۳۴۰۰ پاسکال افت می‌کند. در این حالت افت توان آن در هر متر لوله چند وات است؟

- (۱) ۵ (۲) ۴۵ (۳) ۵۰ (۴) ۵۵

۹۹- در نفوذ یک طرفه‌ی مولکول‌های گاز A در محیط گازی B اگر در دمای ثابت مقدار فشار کل سیستم را دو برابر کنیم، مقدار شار مولکولی A:

- (۱) دو برابر می‌شود. (۲) تغییری نمی‌کند. (۳) نصف می‌شود. (۴) با نسبت $\left(\frac{2}{1}\right)^2$ زیاد می‌شود.

۱۰۰- در یک برج جذب گاز حباب‌ساز (bubble column)، مقدار اباشستگی گاز در برج ۱۱ درصد حجم برج را که مملو از مایع است تشکیل می‌دهد. در صورتی که قطر متوسط حباب‌های تشکیل شده در برج ۴/۵ میلی‌متر باشد، سطح ویژه‌ی تماس گاز و مایع در واحد حجم برج (a) چقدر می‌باشد؟

- (۱) $۶۷ \frac{m^2}{m^3}$ (۲) $۱۴۷ \frac{m^2}{m^3}$ (۳) $۱۲۰۰ \frac{m^2}{m^3}$ (۴) $۱۳۳۰ \frac{m^2}{m^3}$

۱-۱ در یک فرایند استخراج ۲۰۰kg محلول C و A شامل ۲۵٪ جرمی C با ۳۰۰kg حلال B استخراج می‌شود. امولسیون دارای ۱۰٪ جرمی C و ۵۰٪ جرمی A می‌گردد. این حلال شامل می‌باشد.

(۱) B خالص (۲) مخلوط B و C (۳) مخلوط A و B (۴) مخلوط B و A و C

۱-۲ در یک تقطیر مداوم در یک برج سینی‌دار مختصات نقطه تقاضل برای قسمت غنی‌سازی برج $\frac{0.9}{1500} \frac{kJ}{kg}$ ΔD می‌باشد. گرمای نهان تبخیر را برای سینی‌ای که در صد بخار ورودی به آن ۸۰٪ و مایع خروجی از آن ۷۰٪ باشد، برحسب $\frac{kJ}{kg}$ کدام است؟

(۱) ۵۰۰ (۲) ۷۵۰ (۳) ۱۰۰۰ (۴) ۱۵۰۰

۱-۳ در یک تبخیر آبی مخلوط دوجزئی ایده‌آل شامل ۶۰٪ مولی جزء سبکتر با ضریب جداسازی ۲٫۵، کسر مولی جزء سبکتر در فاز مایع ۴۰٪ می‌باشد. نسبت بخار مایع ایجاد شده برابر است با

(۱) $\frac{1}{2}$ (۲) ۰٫۶۶ (۳) ۲ (۴) $\frac{3}{2}$



۱-۴ در رابطه $N_m + 2 = \frac{\log \frac{x_D}{1-x_D} \times \frac{1-x_w}{x_w}}{\log \alpha_{av}}$ عدد ۲ نشان دهنده:

(۱) کندانسور کامل و ریویلر جزئی بوده و α_{av} مربوط به سرتاسر ستون است.
 (۲) یک عدد ریویلر و یک عدد کندانسور جزئی بوده و α_{av} مربوط به سرتاسر ستون است.
 (۳) یک عدد کندانسور کامل و یک عدد ریویلر بوده و α_{av} مربوط به سرتاسر ستون است.
 (۴) اولین سینی از بالا و اولین سینی از پائین است و α_{av} مربوط به موضع ورودی خوراک است.

۱-۵ خوراکی شامل ۲۰٪ جزء فرار وارد یک مرحله تبخیر کننده ناگهانی می‌شود. ضریب فراریت سیستم شیمیایی را ثابت و برابر با ۲/۱ فرض می‌کنیم. هدف دستیابی به محلول مایع حاوی ۱۵٪ جزء فرار است.

(۱) امکان ندارد در یک مرحله به محلول مایع حاوی ۱۵٪ جزء فرار برسیم.
 (۲) اگر تبخیر کننده باراندمان ۱۰۰٪ عمل نماید احتمال رسیدن به محلول محصول ۱۵٪ جزء فرار وجود دارد.
 (۳) نه تنها در یک مرحله به محصول حاوی ۱۵٪ جزء فرار می‌رسیم بلکه کمتر از آن نیز امکان دارد.
 (۴) اطلاعات کافی نمی‌باشد.

۱-۶ در کدام حالت زیر استفاده از یک تبخیر کننده ارجحیت بیشتری نسبت به برج تقطیر دارد؟

(۱) دو مایع با اختلاف نقطه جوش زیاد (۲) دو مایع با اختلاف نقطه جوش کم
 (۳) دو مایع دارای نقطه آزوتروپ (۴) یک مایع حاوی املاح جامد

۱-۷ در یک زودپز که شیر تخلیه آن در فشار ۲ اتمسفر باز می‌کند، تا نصف آب ریخته و روی حرارت ملایم شعله گاز گذاشته‌ایم. پس از مدتی قبل از اینکه شیر تخلیه زودپز باز کند مقدار Y_S چقدر خواهد بود؟

(۱) $Y_S < 1$ (۲) $Y_S = 1$ (۳) $Y_S > 1$ (۴) نمی‌توان اظهار نظر کرد (با توجه به داده‌های مسئله)

۱-۸ در مبحث رطوبت سنجی تعاریف کمیت‌ها بر مبنای گاز خشک می‌باشد، زیرا:

(۱) انتقال جرم در داخل فاز گاز مدنظر می‌باشد. (۲) گاز وارد عملیات انتقال جرم نمی‌شود.
 (۳) مقدار بخار در مقایسه با مقدار گاز کم است. (۴) محاسبات در مورد فاز گاز می‌باشند.

۱-۹ یک برج تقطیر دو جزئی، علاوه بر دو محصول بالا و پایین برج دارای یک محصول جانبی بین خوراک و محصول بالا می‌باشد. در مختصات Hxy قطب مربوط به قسمت بالای برج Δp و قطب مربوط به قسمت پائین برج Δw با چه نقطه‌ای در امتداد خط مستقیم هستند؟

(۱) نقطه مربوط به محصول جانبی (۲) نقطه مربوط به خوراک ورودی
 (۳) نقطه مربوط به قسمت میانی برج (۴) نقطه مربوط به تقاضل خوراک و محصول جانبی

۱-۱۰ در تقطیر دوجزئی با استفاده از روش McCabe، یک جریان جانبی S بین D و F بصورت مایع اشباع و با شدت $S=D$ گرفته می‌شود، اگر محل تلاقی خط عملیاتی بین S و F با خط $y=x$ برابر 0.6 بوده، جزء مولی جسم فرارتر در محصول مقطر $x_D = 0.9$ باشد، جزء مولی جسم فرارتر در جریان جانبی چقدر خواهد بود؟

(۱) ۰٫۵ (۲) ۰٫۶ (۳) ۰٫۸ (۴) $x_S < x_F$

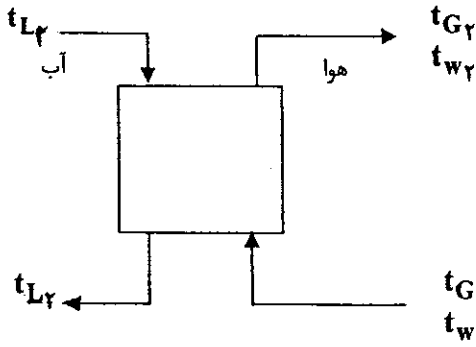
۱-۱۱ در عملیات کریستالیزاسیون دانه‌بندی ثانویه و در آن بین نوع برخورد (Contact nucleation) نقش اساسی و عمده‌ای دارد. در مورد کریستالیزاسیون بعضی از ترکیبات معدنی و همچنین آلی ثابت شده است که این نوع دانه‌بندی:

(۱) تابع میزان فوق اشباع نیست و بستگی به تراکم جمعیت دانه‌ها دارد.
 (۲) تابع میزان فوق اشباع نیست و بستگی به شدت بهم‌زدن ماگما دارد.
 (۳) تابع درجه ۱ نسبت به فوق اشباع می‌باشد در صورتیکه دانه‌بندی اولیه تابع درجه ۲۰ یا بیشتر نسبت به فوق اشباع است.
 (۴) تابع درجه ۲۰ یا بیشتر نسبت به فوق اشباع می‌باشد در صورتیکه دانه‌بندی اولیه تابع درجه ۱ نسبت به فوق اشباع است.

۱-۱۲ در تبخیر کننده چند مرحله‌ای در جهت مسیر خوراک، BPE و U (ضریب انتقال حرارت) چگونه تغییر می‌کنند؟

(۱) BPE و U هر دو زیاد می‌شوند. (۲) BPE و U هر دو کم می‌شوند.
 (۳) BPE کم و U زیاد می‌شود. (۴) BPE زیاد و U کم می‌شود.

۱۱۳- یکی از فاکتورهای مهم در طراحی برجهای خنک کن آب، «نزدیکی به درجه حرارت مرطوب (wet-bulb temperature approach)» می‌باشد. با توجه به شکل روبرو کدامیک از گزینه‌های ذیل معرف این فاکتور می‌باشد؟



- (۱) $t_{w_1} - t_{G_1}$
- (۲) $t_{L_1} - t_{w_1}$
- (۳) $t_{L_2} - t_{w_2}$
- (۴) $t_{G_1} - t_{w_1}$

۱۱۴- در عملیات جذب سطحی هیدروکربن‌های پارافینی توسط کربن فعال، در صورتیکه فشار کاهش یابد، کدامیک از گزاره‌های ذیل در مورد میزان جذب و جذب نسبی برای جزئی که بیشتر جذب ماده جاذب می‌گردد، صحیح می‌باشد؟

- (۱) میزان جذب کم می‌گردد در صورتیکه جذب نسبی افزایش می‌یابد.
- (۲) میزان جذب کم می‌گردد و لیکن جذب نسبی ثابت می‌ماند.
- (۳) میزان جذب افزایش می‌یابد ضمن اینکه جذب نسبی هم افزایش می‌یابد.
- (۴) میزان جذب کم می‌گردد ضمن اینکه جذب نسبی هم کاهش می‌یابد.

۱۱۵- شدت مولی عبور گاز و ضریب انتقال جرم (F_G) در یک برج تقطیر پر شده به ترتیب $0.01 \frac{\text{kmol}}{\text{m}^2 \text{s}}$ و $10^{-5} \frac{\text{kmol}}{\text{m}^2 \text{s}}$ می‌باشند. اگر سطح ویژه پرکن‌ها $a = 400 \frac{\text{m}^2}{\text{m}^3}$ باشد ارتفاع معادل یک واحد تعادلی (H_{TC}) برابر است با:

- (۱) ۸۵ cm
- (۲) ۲۳ cm
- (۳) ۲.۱۷ m
- (۴) ۱.۲۵ m

۱۱۶- در یک برج جذب پر شده از راشیگ رینگ یک اینچ استفاده شده است. با تغییر نوع پرکن به راشیگ رینگ نیم اینچ، تعداد واحدهای تعادلی:

- (۱) وافت فشار در برج کاهش می‌یابند.
- (۲) افزایش وافت فشار در برج کاهش می‌یابد.
- (۳) وافت فشار در برج کاهش می‌یابند.
- (۴) کاهش وافت فشار در برج افزایش می‌یابد.

۱۱۷- قطر مناسب ظرف جداسازی فازها (settler) در عملیاتی که $3 \frac{\text{m}^3}{\text{min}}$ از فاز پیوسته با $10 \frac{\text{lit}}{\text{s}}$ از فاز ناپیوسته تماس حاصل می‌کند برابر است با:

- (۱) حدود ۲ m
- (۲) حدود ۳ m
- (۳) حدود ۲۱ m
- (۴) حدود ۲۵ m

۱۱۸- در کریستالیزاسیون تحت خلاء:

- (۱) حلال تبخیر نمی‌شود.
- (۲) ممکن است محلول ابداء سرد نشود.
- (۳) همواره تماماً از سرمایش و تبخیر حلال استفاده می‌شود.
- (۴) کریستال‌ها فقط بر اثر تبخیر حلال حاصل می‌شود.

۱۱۹- در فیلتراسیون:

- (۱) هرگز خلاء اعمال نمی‌شود.
- (۲) همواره فشار اعمال می‌شود.
- (۳) همواره خلاء اعمال می‌شود.
- (۴) گاهی خلاء و گاهی فشار اعمال می‌شود.

۱۲۰- در یک برج پر شده هوا به همراه ۵٪ حجمی گاز کربنیک وارد می‌شود و می‌خواهیم با شستشو با محلول سود این میزان ۱٪ کاهش یابد. تعداد سینی‌های معادل در این برج برابر است با:

- (۱) ۲
- (۲) حدود ۴
- (۳) ۵
- (۴) حدود ۶

۱۲۱- از نظر معادله پیوستگی کدام یک از روابط امکان پذیر می باشند؟ فرض کنید که جریان پایا و تراکم ناپذیر است.

(۱) $\vec{V} = (t + 2x + 2y)\vec{i} + (t - y - z)\vec{j} + (t + x - z)\vec{k}$

(۲) $\vec{V} = (t + 2x + 2y)\vec{i} + (t - y - z)\vec{j} + (t + x - z)\vec{k}$

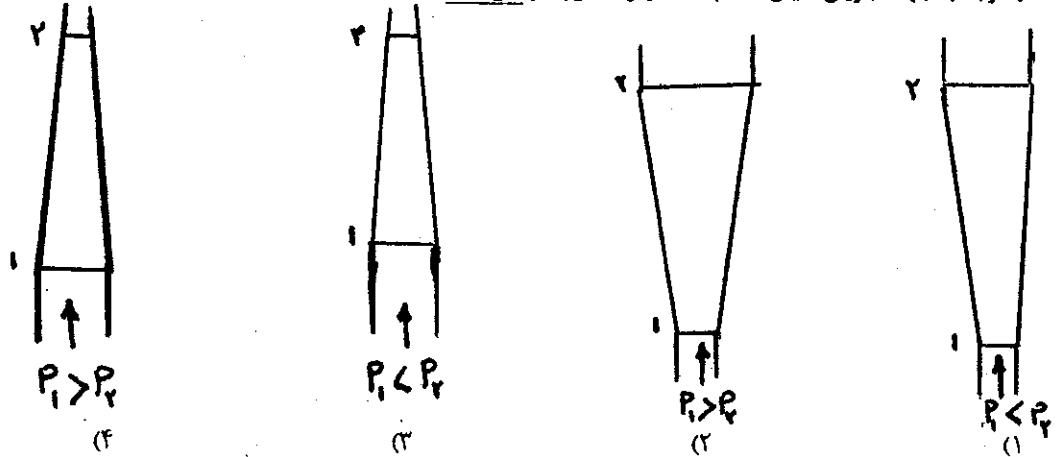
(۳) $\vec{V} = (t + 2x + 2y)\vec{i} + (t - y - z)\vec{j} + (t + x - z)\vec{k}$

(۴) $\vec{V} = (t + 2x + 2y)\vec{i} + (t - y - z)\vec{j} + (t + x - z)\vec{k}$

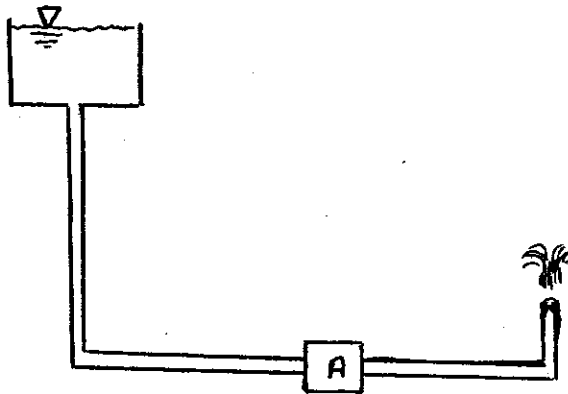
۱۲۲- ویسکوسیته مایع با افزایش دما و با افزایش فشار می یابد.

- (۱) کاهش - افزایش (۲) کاهش - کاهش (۳) افزایش - کاهش (۴) افزایش - افزایش

۱۲۳- با توجه به جهت جریان سیال، کدام حالت زیر امکان پذیر نمی باشد؟

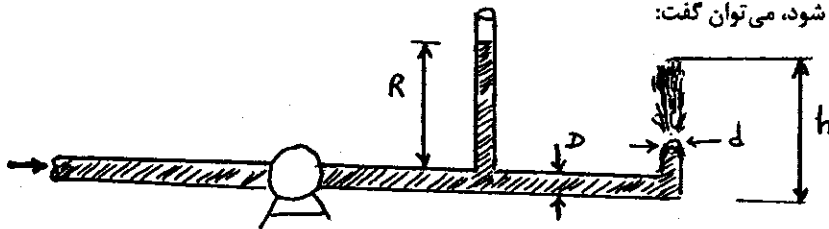


۱۲۴- با توجه به شکل می توان گفت در نقطه A:



- (۱) پمپ وجود دارد.
 (۲) توربین وجود دارد.
 (۳) نه پمپ و نه توربین وجود دارد.
 (۴) ممکن است پمپ یا توربین وجود داشته باشد.

۱۲۵- با توجه به شکل در صورتی که از اصطکاک صرف نظر شود، می توان گفت:



- (۱) همواره $h > R$ است.
 (۲) در صورتی که $d < D$ باشد، $h > R$ است.
 (۳) همواره $h \geq R$ است.
 (۴) در صورتی که $d < D$ باشد، $h \geq R$ است.

۱۲۶- یک اغتشاش در سیال تراکم پذیر و تراکم ناپذیر با چه سرعتی انتشار می یابد؟

- (۱) در سیال تراکم پذیر و تراکم ناپذیر با سرعت صوت.
 (۲) در سیال تراکم پذیر با سرعت صوت در آن سیال و در سیال تراکم ناپذیر با سرعت صفر.
 (۳) در سیال تراکم پذیر با سرعت صفر و در سیال تراکم ناپذیر با سرعت صوت در آن سیال.
 (۴) در سیال تراکم پذیر با سرعت صوت در آن سیال و در سیال تراکم ناپذیر با سرعت بینهایت.

گروه آموزشی مهندسی فنی
 مدرس تخصصی دروس دانشگاهی
 مکتوب ارشد - مکتوب کارشناسی به کارشناسی
 ۰۹۱۱-۳۵۷۱۲۰۴
 www.pasokh.org

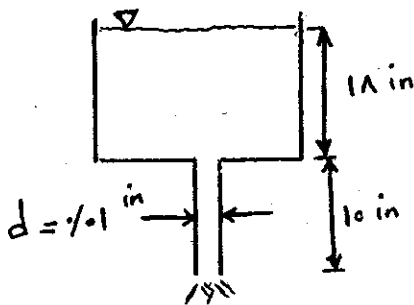
۱۲۷- چرا در عدد R_e (رینولدز) پایین و $\frac{\epsilon}{D}$ (زبری نسبی) کم، منحنی f (ضریب اصطکاک)، بر منحنی لوله صاف منطبق می‌شود؟

- (۱) زیرا جریان سیال آرام می‌شود.
- (۲) زیرا زبری‌های لوله در زیر زیرلایه آرام قرار می‌گیرد.
- (۳) زیرا جریان سیال به جریان آرام و لوله به لوله صاف میل می‌کند.
- (۴) بررسی دقیق نشان می‌دهد که همیشه منحنی f با منحنی لوله صاف اختلاف هر چند جزئی، دارد.

۱۲۸- در صورتی که از اصطکاک بتوان صرف‌نظر نمود. کدام یک از مقادیر زیر دبی حجمی خروجی گلیسیترین را در

$$\rho = 78 \frac{\text{lb}}{\text{ft}^3} \text{ at } 68^\circ\text{F}, \quad \mu = 3/12 \times 10^{-5} \frac{\text{lb f sec}}{\text{ft}^2}$$

را از مخزن بزرگ زیر نشان می‌دهد؟



$$(1) \quad 2/98 \times 10^{-4} \frac{\text{ft}^3}{\text{hr}}$$

$$(2) \quad 7/285 \times 10^{-8} \frac{\text{ft}^3}{\text{hr}}$$

$$(3) \quad 8/285 \times 10^{-8} \frac{\text{ft}^3}{\text{hr}}$$

(۴) هیچ کدام

۱۲۹- آب در لوله‌ای به قطر ۲ سانتی‌متر و به طول ۳ متر با سرعت ۵/۰٪ متر بر ثانیه در جریان است. افت فشار در لوله برابر است با:

$$\rho = 1000 \frac{\text{kg}}{\text{m}^3}, \quad \nu = 8 \times 10^{-7} \frac{\text{m}^2}{\text{s}}$$

(۴) ۳/۴ پاسکال

(۳) ۹/۶ پاسکال

(۲) ۱۲/۸ پاسکال

(۱) ۲۰/۸ پاسکال

۱۳۰- ضریب ظاهری ارتجاعی (Bulk modulus of elasticity) برای یک گاز ایده‌آل در شرایط ایزوترم مساوی است با:

$$\rho \text{ (دانسیته)}, \quad P, K = \frac{C_p}{C_v} \text{ (فشار)}$$

(۴) ρP

(۳) P

(۲) KP

(۱) ρ

۱۳۱- سیال تراکم‌ناپذیری در حالت جریان آرام و شرایط پایا در داخل لوله‌ای به شعاع R در حال حرکت می‌باشد. رابطه‌ای که سرعت را در هر نقطه

به سرعت ماکزیمم مربوط نماید کدام یک است؟

$$u = u_{\max} \left[1 - \left(\frac{r}{R} \right)^2 \right] \quad (2)$$

$$u = u_{\max} \left(\frac{dp}{dx} \right) \left[1 - \left(\frac{r}{R} \right)^2 \right] \quad (1)$$

(۴) هیچ کدام

$$u = u_{\max} \left(-\frac{R^2}{4\mu} \right) \left[1 - \left(\frac{r}{R} \right)^2 \right] \quad (3)$$

۱۳۲- در صورتی که مقادیر سرعت به صورت زیر تعیین شده باشند، مشخص نمایید که کدام یک از این جریان‌ها چرخشی (rotational) می‌باشد؟

$$u = x^2 - y^2, \quad v = -2xy \quad (2)$$

$$u = -ky, \quad v = kx \quad (1)$$

(۴) هیچ کدام

$$u = -\frac{ky}{x^2 + y^2}, \quad v = \frac{kx}{x^2 + y^2} \quad (3)$$

۱۳۳- برای جلوگیری از کاویتاسیون در یک پمپ باید:

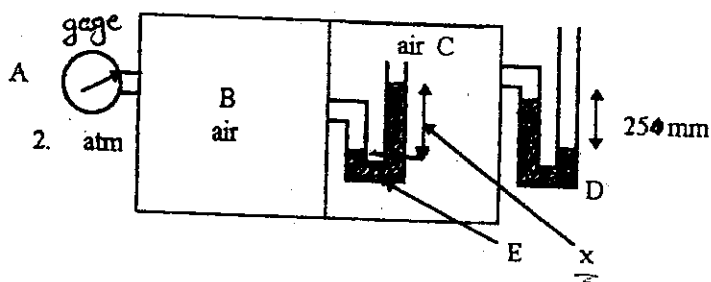
- (۲) هد قبل از پمپ بیش از هد بعد از پمپ باشد.
- (۴) هد قبل از پمپ بیشتر از فشار بخار اشباع باشد.

(۱) هد بعد از پمپ بیش از هد قبل از پمپ باشد.

(۳) هد بعد از پمپ بیش از فشار بخار اشباع باشد.

۱۳۴- ارتفاع ستون جیوه در مانومتر E در واحد m کدام یک از گزینه‌های زیر است؟ $\gamma_{Hg} = 136000 \frac{N}{m^3}$ و یک اتمسفر برابر $100 \frac{kN}{m^2}$

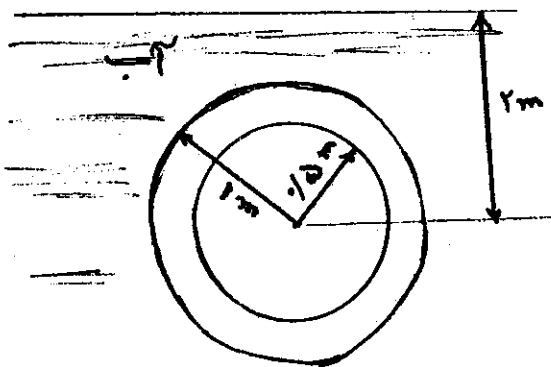
در نظر گرفته شود.



- (۱) ۰/۷۲
- (۲) ۰/۹۲
- (۳) ۱/۷۲
- (۴) ۲/۷۲

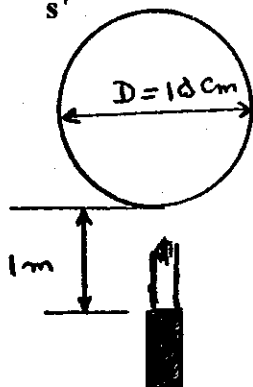
گروه آموزشی مهندس فضلی
تدریس خصوصی دروس دانشگاهی
کنکور ارشد - کنکور کاردانی به کارشناسی
۰۹۱۲-۳۵۷۱۲۰۴
www.pasokh.org

۱۳۵- در شکل زیر نیروی وارد از طرف آب به یک طرف حلقه قائم در واحد نیوتن چقدر است؟ $\left\{ \gamma_{water} = 10^4 \frac{N}{m^3} \right\}$



- (۱) ۴۷/۱۲
- (۲) ۴۷/۲۴
- (۳) ۴۷/۱۲/۴
- (۴) ۴۷/۲۴

۱۳۶- نیروی وارد از طرف فواره آب، بر کره را به دست آورید. سرعت فواره در خروجی $4 \frac{m}{s}$ است، و کره ثابت می‌باشد. $(g = 10 \frac{m}{s^2})$

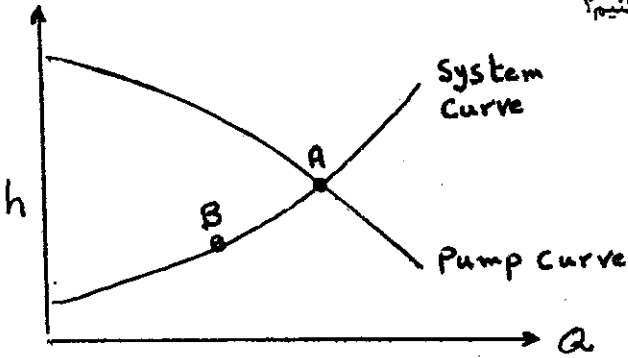


- (۱) ۱۵ N
- (۲) ۱۵ N
- (۳) ۱۵۰ N
- (۴) نیرویی وارد نمی‌شود.

۱۳۷- معادله پیوستگی به صورت برداری برای یک سیال تراکم‌ناپذیر کدام است؟

- (۱) $\nabla \cdot q = -\frac{\partial \rho}{\partial t}$
- (۲) $\nabla \cdot q = 0$
- (۳) $\nabla \cdot \rho q = \frac{\partial \rho}{\partial t}$
- (۴) $\nabla \cdot \rho q = 0$

۱۳۸- اگر پمپی با منحنی زیر مجبور باشد در نقطه B کار کند بهتر است چکار کنیم؟



- (۱) بهتر است پمپ را عوض کنیم و پمپ کوچکتری انتخاب کنیم.
- (۲) مشکلی پیش نمی‌آید زیرا دبی که پمپ می‌تواند ایجاد کند بیشتر از دبی مورد نیاز است.
- (۳) باید افت فشار در مسیر تخلیه را افزایش دهیم تا پمپ در نقطه B کار کند.
- (۴) مشکلی پیش نمی‌آید زیرا هدیی که پمپ ایجاد می‌کند بیشتر از هد مورد نیاز است.

۱۳۹- اگر سرعت یک هواپیما در یک جریان هوایی موافق با سرعت که $\frac{m}{s}$ ۲۰ می‌باشد از $\frac{m}{s}$ ۷۶ به $\frac{m}{s}$ ۱۰۰ برسد، نیروی درگ وارد بر هواپیما

چه تغییری خواهد کرد؟

- (۱) ۵/۰ برابر می‌شود.
- (۲) ۲ برابر می‌شود.
- (۳) ۳ برابر می‌شود.
- (۴) ۵ برابر می‌شود.

۱۴۰- با متغیرهای جرم حجمی ρ ، شتاب جاذبه g ، لزجت سینماتیک ν ، زمان t ، قطر D و جریان حجمی Q کدام عبارت بدون بعد صحیح می‌باشد؟

$$\frac{Q}{gt} = f\left(\frac{gt^2}{D}, \frac{gv^2}{t}, \frac{VD}{v}\right) \quad (۱)$$

$$\frac{Q}{D^2gt} = f\left(\frac{gt^2}{D}, \frac{tv}{D^2}, \frac{VD}{v}\right) \quad (۲)$$

$$\frac{Q}{gt} = f\left(\frac{gt^2}{D}, \frac{gv^2}{t}, \frac{VD}{v}\right) \quad (۳)$$

$$\frac{Q}{Dv} = f\left(\frac{gt^2}{D}, \frac{gv}{t}, \frac{VD}{v}\right) \quad (۴)$$

گروه آموزشی مهندسی فضایی
تدریس خصوصی دروس دانشگاهی
کنکور ارشد - کنکور کارشناسی به کارشناسی
۰۹۱۲-۳۵۷۱۲۰۴
www.pasokh.org

گروه آموزشی مهندسی فضایی
تدریس خصوصی دروس دانشگاهی
کنکور ارشد - کنکور کارشناسی به کارشناسی
۰۹۱۲-۳۵۷۱۲۰۴
www.pasokh.org